

Шифр участника И-2**ЗАДАНИЯ ДЛЯ ОБУЧАЮЩИХСЯ**

Время выполнения заданий – 45 минут

Максимальное количество баллов – 100 баллов

**Задание 1.**

Соотнесите личность и открытие. Запишите буквы в таблицу, под которой они указаны.

Максимальный балл за задание – 10.

	Личность	Открытие
1	Геродот	А) Сформулировал теорию эволюции путём естественного отбора
2	Чарлз Дарвин	Б) Обнаружил рисунки древнего художника в пещере Альтамира
3	Саутуола	В) На острове Ява обнаружил останки питекантропа
4	Луис Лики	Г) Обнаружил в Олдувайском ущелье останки «хомо хабилиса»
5	Эжен Дюбуа	Д) объехал почти все страны своего времени и описал обычаи и традиции многих народов

**Ответ:**

1	2	3	4	5
<u>Д</u>	<u>В</u>	<u>Б</u>	<u>Г</u>	<u>А</u>

105

**Задание 2.**

По какому принципу образованы ряды?

Максимальный балл за задание – 14.

1. Австралопитек, питекантроп, неандерталец

2 Ответ: Правильные люди

2. Костёнки, Сунгирь, Капова пещера

Ответ: Формы

3. Шерстистый носорог, мамонт, пещерный медведь

86 Ответ: ледниковый период

4. Земледелие, скотоводство, ремесло

Ответ: Земля первобытн. стад

5. Духи, идолы, молитвы

2 Ответ: Религия



Шифр участника И-2

Ответ:

1	2	3	4	5	6	7	8
Е	В	<del>Ж</del>	Б	З	Ж	Г	А

50

**Задание 5.**

**Работа с картой.**

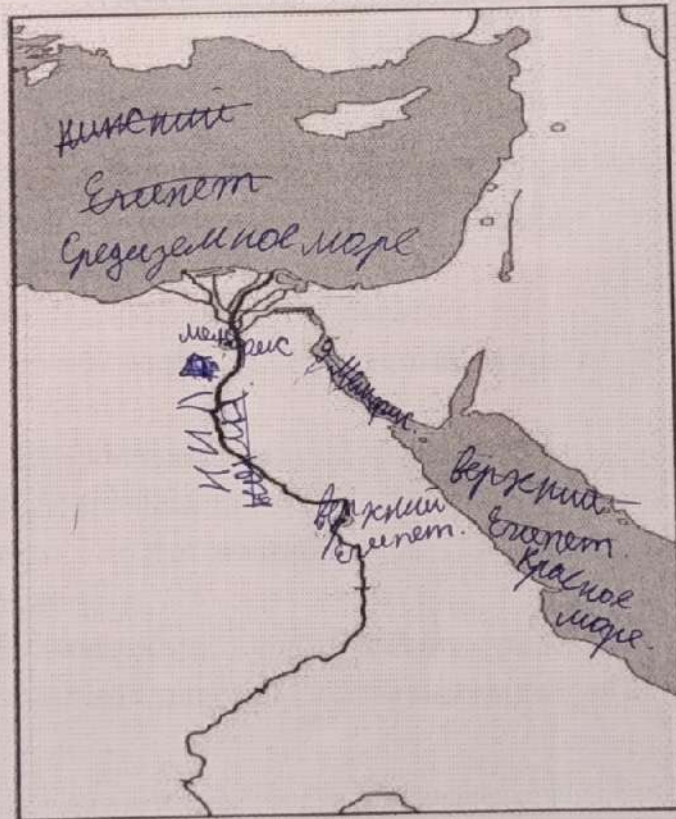
Максимальный балл за задание - 10.

50

На контурной карте Египта:

1. Напишите названия морей, омывающих Египет.
2. Напишите название главной реки Египта.
3. Обозначьте на карте 1-ый порог.
4. Укажите на карте пунсоном и напишите название столицы единого Египетского государства.
5. Отметьте территории верхнего и нижнего Египта.

Ответ:





Шифр участника И-2

1) Сначала в долине реки А) Нил существовало много мелких государств, которые со временем образовали два крупных: Б) Верхняя Египет и В) Нижняя Египет. Примерно в Г) 3000 году до н.э. они объединились в одно государство во главе которого стоял Д) Фараон.

Слова: Нижний, фараон, Нил, 3000, Верхний.

105  
2) Египет располагается на северо-востоке А) Африки: от Б) Средиземного моря севере до первого порога на реке В) Нил на юге, от Г) Красного моря на востоке до Д) Ливийской пустыни на западе.

Слова: Красного, Африки, Ливийской, Средиземного, Нил.

**Задание 8.**

Подпишите названия богов под картинками, и каким силам природы они соответствовали, кому покровительствовали.


Максимальный бал за задание – 12.



Шифр участника И - 2



4.



5.



6.

Ответ:


№	Имя бога	Чему покровительствует
1	Тот	Бог мудрости. 25
2	Сет	
3	Ра	Сын бога Ра. 45
4	Анубис	Бог мёртвых. 25
5	Хатшепсут	Царица Египта.
6	Амон Ра	Бог солнца.

Задание 9.

Распределите иллюстрации по видам исторических источников.  
Заполните в таблицу цифры, под которыми указаны источники.

Максимальный бал за задание – 9.

Шифр участника 11-2



Шифр участника И-2

Ответ:

Вещественные источники	Письменные источники	Устные источники
1, 3, 6, 7, 8	2, 4, 5, 9	7, 8, 10

65

Задание 10.

На фотографиях изображены памятники архитектуры и скульптуры города Омска. Определите их название.

Максимальный балл за задание- 9.


<p>А)</p> 	<p>Б)</p> 	<p>В)</p> 
<p>Г)</p> 	<p>Д)</p> 	<p>Е)</p> 

Шифр участника И57

Ж)



З)



И)



Ответ:

- А. \_\_\_\_\_
- Б. \_\_\_\_\_
- В. Лобочки 18
- Г. Городовому 18
- Д. Успенский собор 18
- Е. \_\_\_\_\_
- Ж. Полковая колокольня 18
- З. Лоборские ворота 18
- И. Семеновско-Алексеевская часовня 18

65

## ПРОТОКОЛ проверки олимпиадной работы участника

Предмет история  
 Класс 5  
 Шифр И-2  
 № тура (если есть) школьный

Заполняется проверяющими членами жюри

№ заданий		1	2	3	4	5	6	7	8	9	10	ИТОГО
Максимальное количество баллов		10	14	8	8	10	10	10	12	9	9	100
Баллы членов жюри	Эксперт 1	10	8	8	5	5	8	10	4	6	6	70
	Эксперт 2	10	8	8	5	5	8	10	4	6	6	70
Итоговый балл		10	8	8	5	5	8	10	4	6	6	70

Член Жюри

Машинков И. / Машинков И.

Подпись / ФИО

Член Жюри

Бали Вадимович Ю.С. / Бали Вадимович Ю.С.

Подпись / ФИО

\*- количество столбцов с № задания соответствует количеству заданий по данному предмету школьного этапа олимпиады